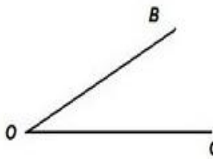



3



ь



”””

И=Е




””

ь

Т



4=А





1=П

3



”””

О=У



””

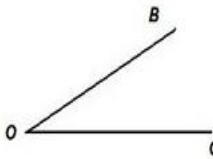
К=Н




Т=Я



3



ь



'''

И=Е




''

ь

Т



4=А



треугольник

1=П

3



'''

О=У



''

К=Н



Т=Я




3

В

С

Ь



”””

И=Е




””

Ь

Т



4=А



дробь

1=П

3



”””

О=У



””

К=Н



Т=Я




3

В

С

Ь



”””

И=Е




””

Ь

Т



4=А



точка

1=П

3



”””

О=У



””

К=Н



Т=Я




3

В

С

Ь



”””

И=Е




””

Ь

Т



4=А



пример

1=П

3



”””

О=У



””

К=Н



Т=Я




3

В

С

Ь



”””

И=Е




””

Ь

Т



4=А



минус

1=П

3



”””

О=У



””

К=Н



Т=Я




3

В

С

Ь

И=Е



”””




””

Ь

Т

4=А





линия

1=П

3



”””

О=У



””

К=Н



Т=Я



Задача из Интернета

$$\begin{array}{c} 10 \\ \text{Horse} \end{array} + \begin{array}{c} 10 \\ \text{Horse} \end{array} + \begin{array}{c} 10 \\ \text{Horse} \end{array} = 30$$

$$\begin{array}{c} 10 \\ \text{Horse} \end{array} + \begin{array}{c} 4 \\ \text{Horseshoes} \end{array} + \begin{array}{c} 4 \\ \text{Horseshoes} \end{array} = 18$$

$$\begin{array}{c} 4 \\ \text{Horseshoes} \end{array} - \begin{array}{c} 2 \\ \text{Boots} \end{array} = 2$$

$$\begin{array}{c} 1 \\ \text{Boot} \end{array} + \begin{array}{c} 10 \\ \text{Horse} \end{array} \times \begin{array}{c} 2 \\ \text{Horseshoe} \end{array} = 21$$

$$1 + 10 + 2$$



Вопрос, ещё вопрос...

➤ Какие цифры «пишут» летчики в небе?



Вопрос, ещё вопрос...

- На какой угол поворачивается солдат по команде «кругом»?

ПОВОРОТ КРУГОМ выполняется по команде «КРУ-ГОМ». Поворот производится в сторону левой руки на левом каблуке и правом носке.



Вопрос, ещё вопрос...

- Над каким предприятием можно увидеть вывеску с надписью «СТО»?



Вопрос, ещё вопрос...

- Имя какой сказочной героини произошло от названия единицы измерения длины?



Вопрос, ещё вопрос...

- Какая геометрическая фигура нужна для наказания детей?




Вопрос, ещё вопрос...

- Какие геометрические фигуры дружат с солнцем?



Вопрос, ещё вопрос...

- Эмблемой какого автомобиля являются четыре кольца?



Audi

Вопрос, ещё вопрос...

- Какие геометрические фигуры есть у нас во рту?



Вопрос, ещё вопрос...

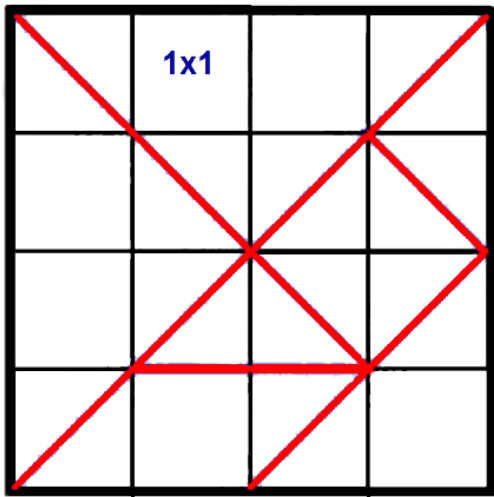
- В какие «цифры» люди одеваются?



Вопрос, ещё вопрос...

- Какую формулу прославили Фанхио, Лауда, Сенна, Прост, Шумахер?

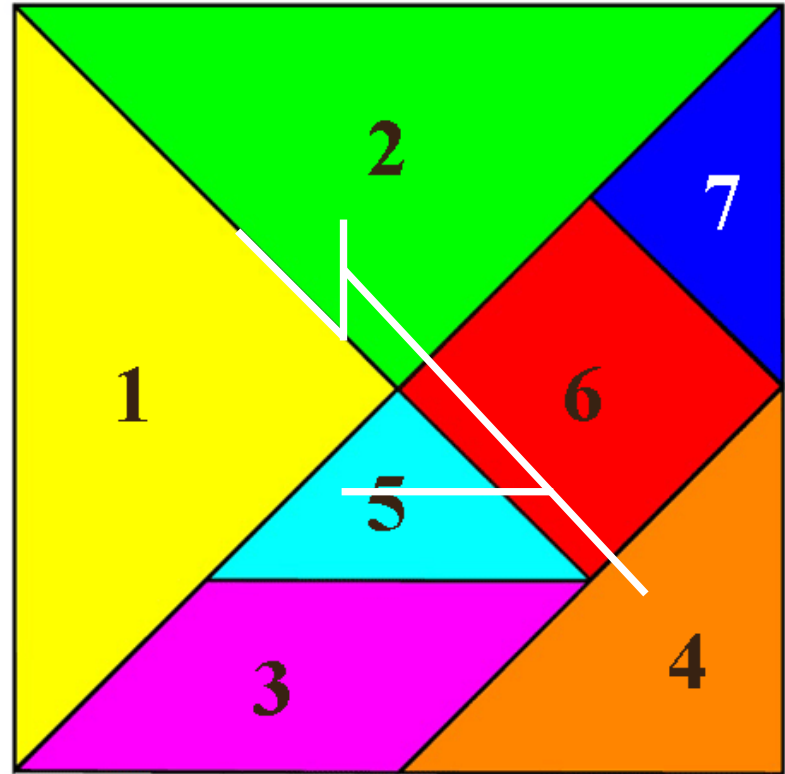





Танграм

Правила игры танграм:


- В собранную фигуру должны входить все семь частей
- Части не должны налегать друг на друга
- Части должны примыкать друг к другу






Логические задачи






Пете и Коле купили по коробке конфет. В каждой коробке находится 12 конфет. Петя из своей коробки съел несколько конфет, а Коля из своей коробки съел столько конфет, сколько осталось в коробке у Пети. Сколько конфет осталось на двоих у Пети и Коли?






Сколько месяцев в году имеют 28 дней?





На столе лежат две монеты, в сумме они дают 3 рубля. Одна из них - не 1 рубль.
Какие это монеты?








Если в 12 часов ночи идет дождь, то можно ли ожидать, что через 72 часа будет солнечная погода?



Фокус

- 1) Выберите карту из колоды
- 2) Из числового значения карты вычти 1
- 3) Полученную разность умножь на 2
- 4) Из этого произведения вычти 1
- 5) Прибавь числовое значение карты
- 6) Назови результат



ИСТОЧНИКИ

- Картинки к ребусам:
- Треугольник https://womanadvice.ru/sites/default/files/34/2016-05-19_1107/matematicheskie_rebusy_18.jpg
- Дробь <https://ds02.infourok.ru/uploads/ex/0e26/0008ad2d-b2c409db/img11.jpg>
- Точка <http://900igr.net/up/datai/77337/0011-009-.png>
- Пример <https://fs00.infourok.ru/images/doc/255/259754/img26.jpg>
- Минус https://i0.wp.com/fs00.infourok.ru/images/doc/11/15031/hello_html_17f71b36.gif
- Линия http://seninvg07.narod.ru/000_main/rebus/matem/l/linija.jpg
- Танграм <http://ucthat-v-skole.ru/images/izobragenia-statei/tangram-shablon.gif>
- <http://ucthat-v-skole.ru/images/izobragenia-statei/tangram2.gif>
- Картинки «вопрос...»:
- Восьмерка <http://sibkray.ru/upload/medialibrary/743/7438cc6cbd233d259878c936b477b7ad.jpg>
- Кругом http://magisterpro.ru/netcat_files/File/18.jpg
- Сто [http://www.autoprofi.ua/images/fck/DSC_0104\(1\).jpg](http://www.autoprofi.ua/images/fck/DSC_0104(1).jpg)
- Дюймовочка <http://www.panoramaphoto.biz/wp-content/photos/2013/12/duimovochka.jpg>
- Угол https://otvet.imgsmail.ru/download/u_b3cef18d36d1be7009823c3c8dc9f276_800.jpg
- Солнце <http://www.clipartbest.com/cliparts/dT6/ayg/dT6aygbLc.png>
- Ауди <https://abnews.ru/wp-content/uploads/2014/11/audi.jpg>
- Рот http://pngimg.com/uploads/mouth_smile/mouth_smile.PNG2.png
- Костюм <http://sp.samarskie-roditeli.ru/media/cache/9e/d8/9ed81ab8b2f4aa32633c19cb6a7bf62d.jpg>
- Шумахер https://images.unian.net/photos/2016_07/thumb_files/1000_545_1467891107-9715-shumacher-poluchil-travmu-golovyi-dva-s-polovinoy-goda-nazad.jpg
- Задача из интернета <https://r.mtdata.ru/r640x-/u1/photo6FA7/20965897831-0/original.jpg>
- 1 слайд <http://sp-imk.ru/wp-content/uploads/2018/02/image-2.jpg>
- Карты https://cdn-images-1.medium.com/max/1200/1*Quc-ijBIA5cDuvuCuhk_zQ.jpeg
- <https://free4print.ru/wp-content/uploads/2016/08/igralne-karty-stranitsa-07-650x460.jpg>
- <https://free4print.ru/wp-content/uploads/2016/08/igralne-karty-stranitsa-06.jpg>